

Hinweise zum Urheberrecht und zu den Nutzungsbedingungen







Alle Dateien, Illustrationen, Vorlagen und Fotos unterliegen dem deutschen Urheberrecht. Die Rechte liegen ausschließlich bei Lisa Siemens, www.lisasiemens.de.

Eine Nutzung ist nur für private Zwecke erlaubt. Die Nutzung für kommerzielle Zwecke (Verkauf) oder die Bereitstellung in Form von Downloads etc. ist NICHT GESTATTET! Jegliche Art von Vervielfältigung ist ebenfalls nicht gestattet. Eine Ausnahme bilden Kindergärten und Schulen, die Kopien für Kinder im Rahmen der Betreuung anfertigen.

Jede Vorlage wurde von mir mit viel Liebe und Sorgfalt erstellt. Wenn du meine Vorlagen verwendest und auf Social Media Kanälen zeigen möchtest, ist dies nur mit Nennung und Verlinkung meines Instagram-Accounts [@ein_wichtel_zieht_ein](https://www.instagram.com/ein_wichtel_zieht_ein) im Text gestattet.



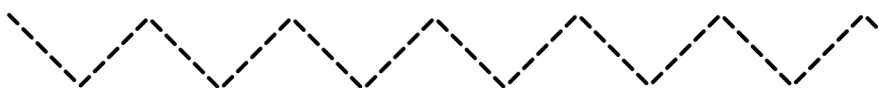

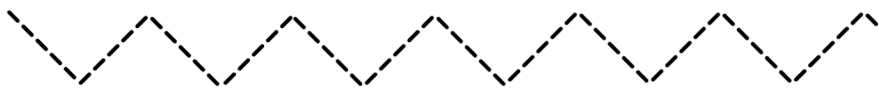
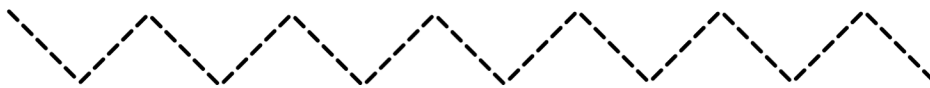
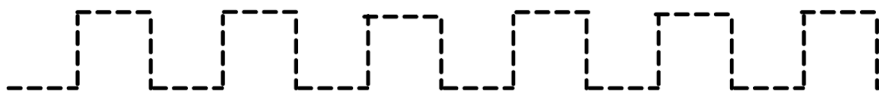
Hilf den Wichteln, den Weg zu den Tannenbäumen zu finden, indem du die gestrichelten Linien mit dem Stift nach malst.






Wie kommt der Wichtel zum Geschenk?

Hilf den Wichteln, die Geschenke zu finden.



Das Wichtel Alphabet

Fahre die gestrichelten Linien mit dem Stift nach



A B C D E


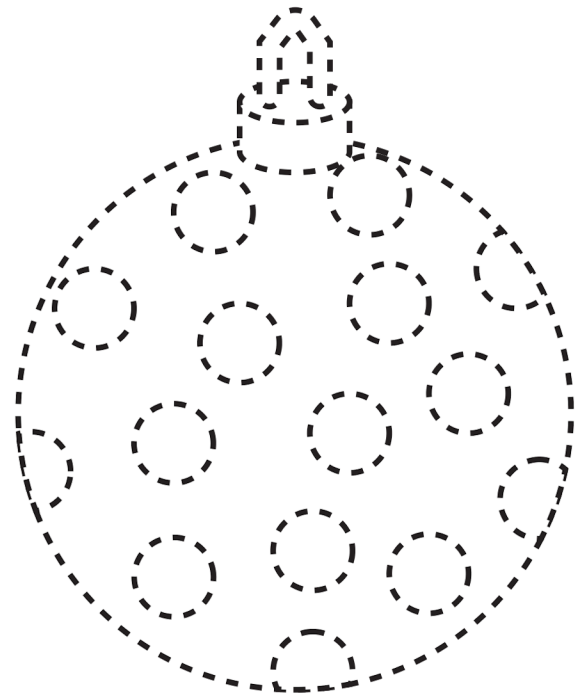
F G H I J K

L M N O P


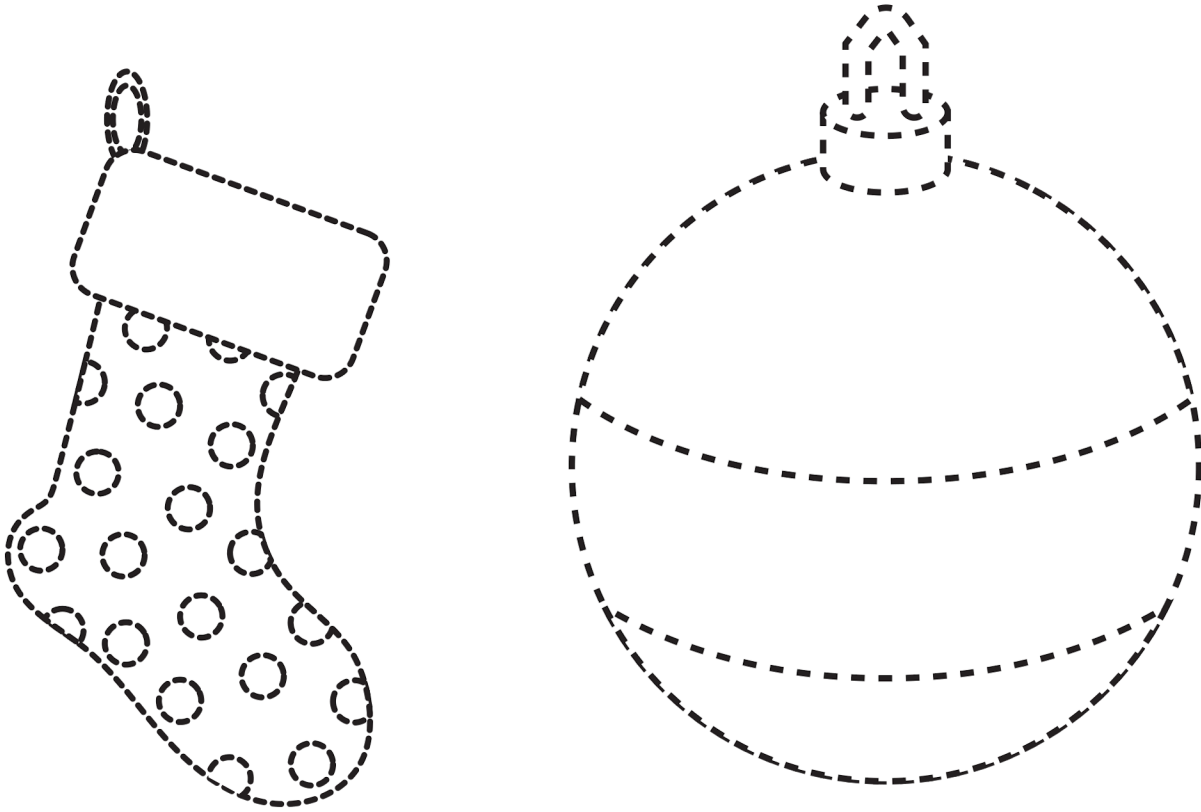
Q R S T U

V W X Y Z

Fahre die gestrichelten Linien mit dem Stift nach



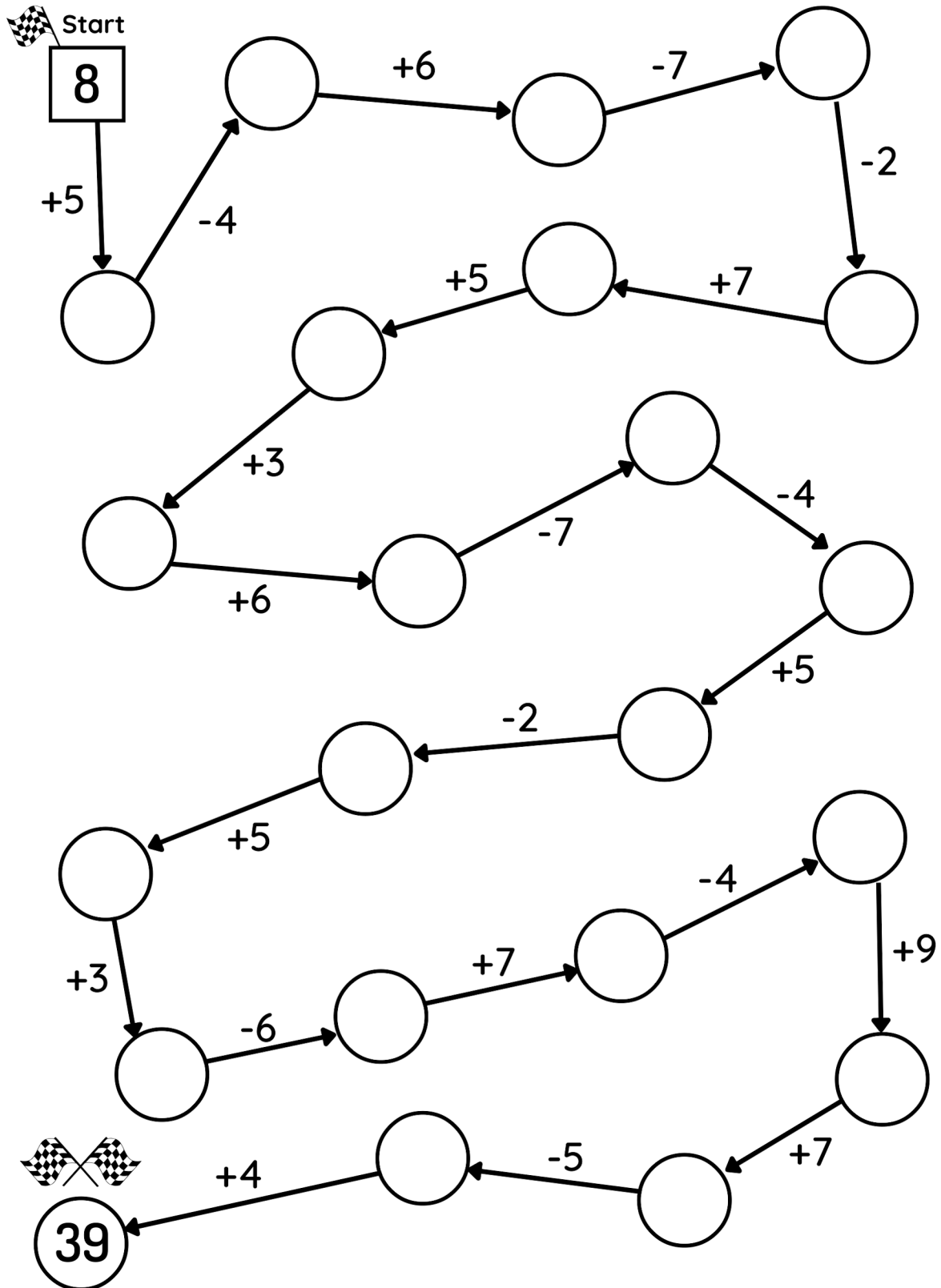
Fahre die gestrichelten Linien mit dem Stift nach





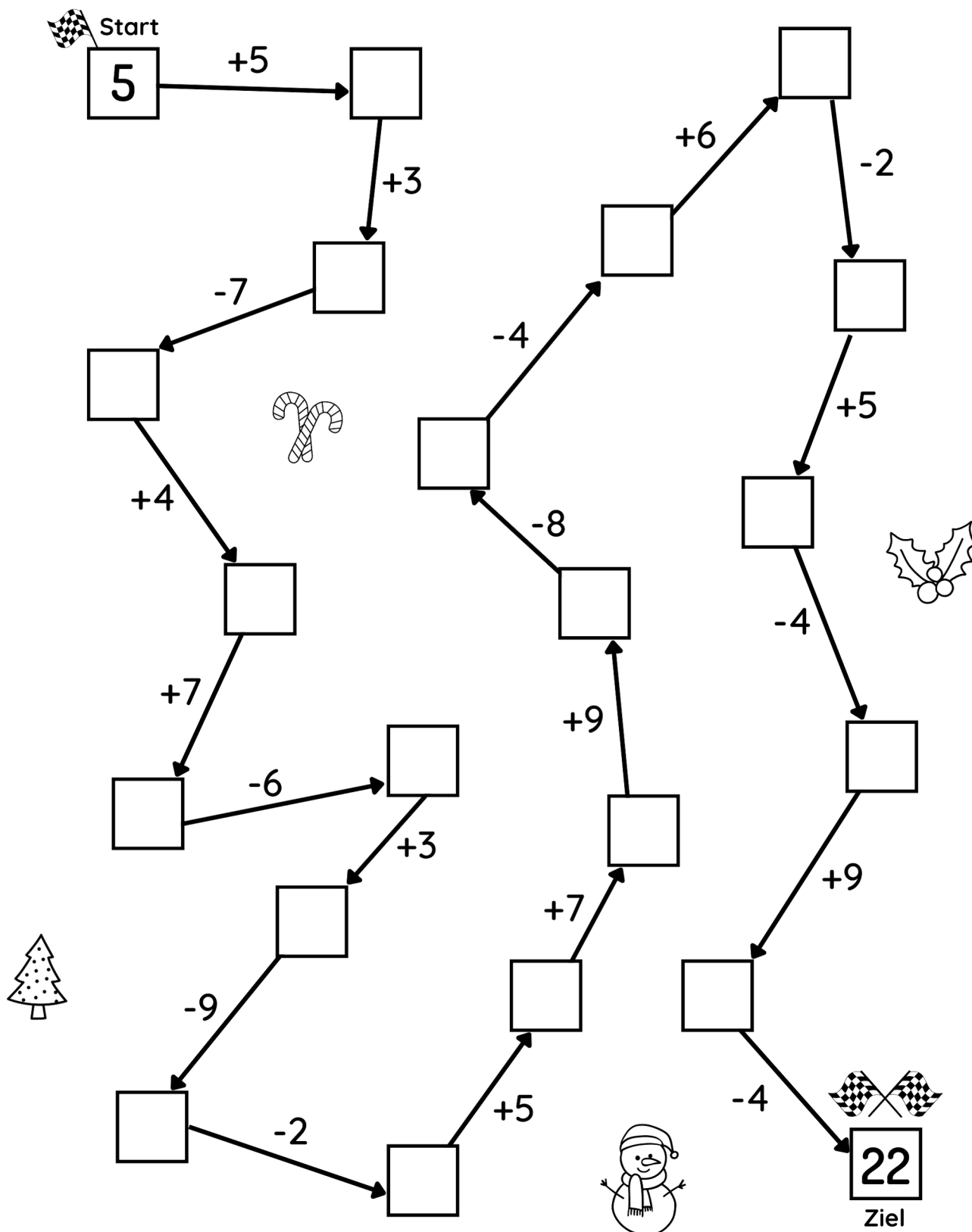
Wie viele Geschenke muss Wichtelin Freya dieses Jahr verpacken?

- Hilf der Wichtelin beim Rechnen indem du von Kästchen zu Kästchen rechnest.



Wie viele Geschenke muss Wichtel Tommes dieses Jahr ausliefern?

- Hilf dem Wichtel beim Rechnen indem du von Kästchen zu Kästchen rechnest.



Verirrt im Wichtelwald




Die Wichtel haben sich auf einem Spaziergang durch den Wichtelwald verirrt. Unterwegs sind überall Steine, die ihnen die Richtung zeigen, wenn man die Aufgabe auf ihnen lösen kann. Könnt ihr ihnen helfen, den Weg zurück zum Nordpol zu finden?

Um den Wichteln zu helfen, müsst ihr die richtigen Lösungen zu den Aufgaben finden. Du kannst alleine spielen oder gemeinsam mit 2 - 4 Freunden. Beginne mit der ersten Aufgabe. Jedes Mal, wenn du oder ihr die Aufgabe richtig beantwortet, dürft ihr ein Feld vorgehen. Beantwortet ihr die Frage falsch, müsst ihr 3 Felder zurückgehen. Richtig gelöste Felder dürft ihr grün anmalen und beim nächsten Mal überspringen.

Wichtelwald

d



4 x 5

2 x 3

5 x 7

6 x 6

6 x 8

5 x 5

2 x 5

3 x 1

6 x 3

5 x 2

2 x 2

6 x 1

8 x 4

3 x 3


4 x 4

2 x 8

9 x 1

4 x 7

Nordpol



9 x 7

10 x 1

6 x 9

5 x 1

8 x 0

0 x 7

Verirrt im Wichtelwald




Die Wichtel haben sich auf einem Spaziergang durch den Wichtelwald verirrt. Unterwegs sind überall Steine, die ihnen die Richtung zeigen, wenn man die Aufgabe auf ihnen lösen kann. Könnt ihr ihnen helfen, den Weg zurück zum Nordpol zu finden?

Um den Wichteln zu helfen, müsst ihr die richtigen Lösungen zu den Aufgaben finden. Du kannst alleine spielen oder gemeinsam mit 2 - 4 Freunden. Beginne mit der ersten Aufgabe. Jedes Mal, wenn du oder ihr die Aufgabe richtig beantwortet, dürft ihr ein Feld vorgehen. Beantwortet ihr die Frage falsch, müsst ihr 3 Felder zurückgehen. Richtig gelöste Felder dürft ihr grün anmalen und beim nächsten Mal überspringen.

Wichtelwald

d




$4 + 2$ $7 + 1$ $9 - 5$ $2 + 5$ $7 + 3$

$10 - 5$

$8 - 4$ $4 + 5$ $5 - 3$ $3 + 3$ $1 + 2$ $9 - 7$

$2 + 2$ $4 - 3$ $8 - 2$ $7 + 3$ $10 - 6$ $4 + 4$

Nordpol

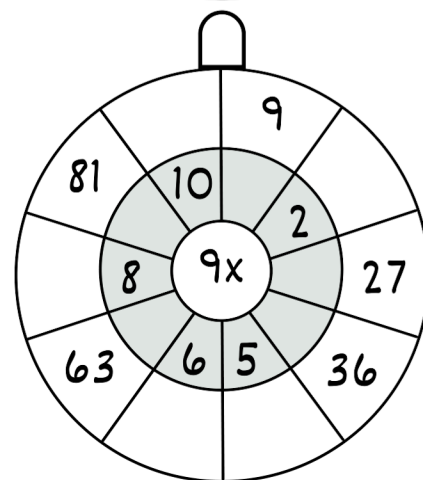
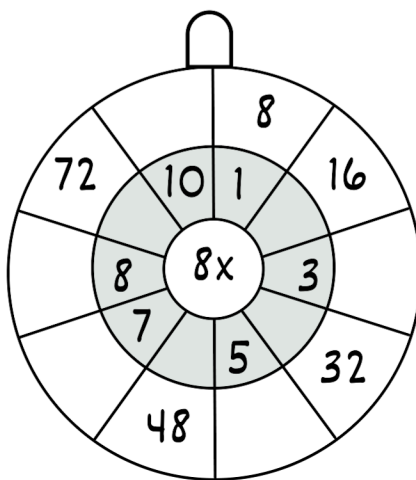
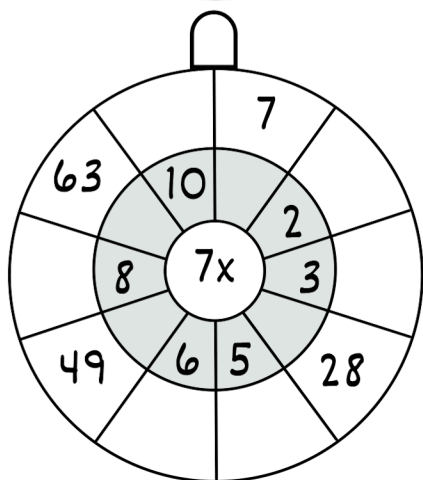
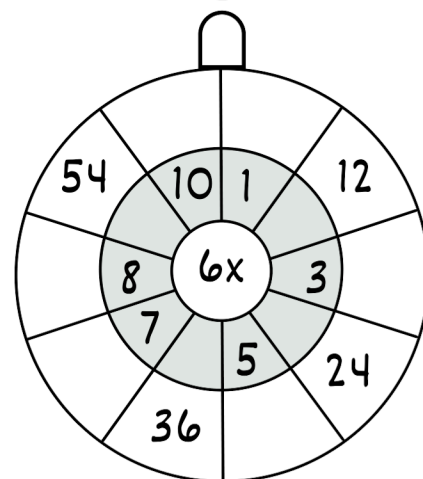
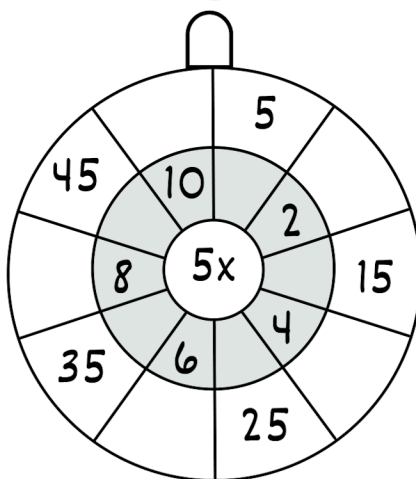
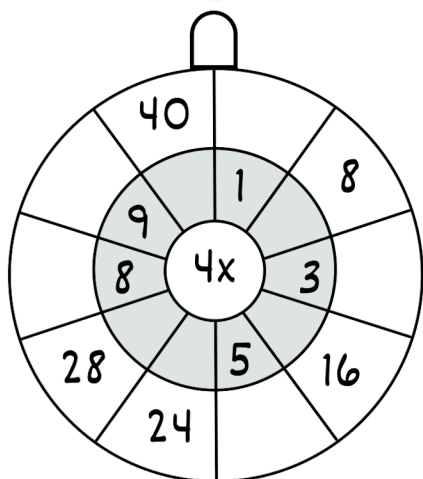
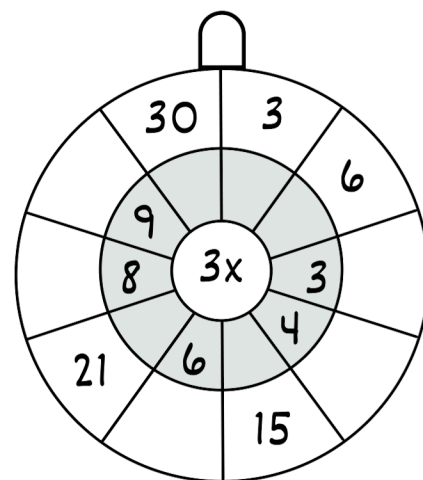
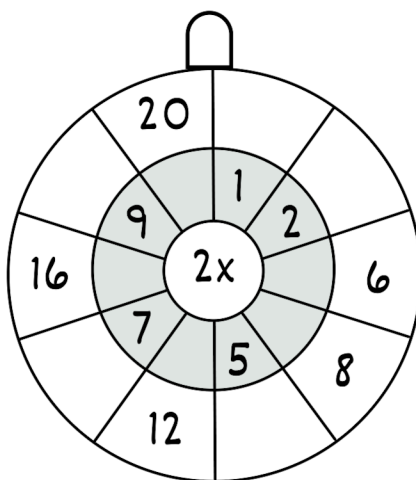
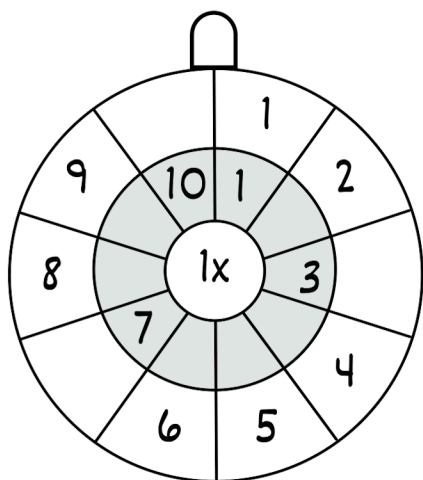


$7 - 2$ $2 + 8$ $10 - 8$ $5 + 1$ $8 - 6$


$6 + 4$

MULTIPLIKATION

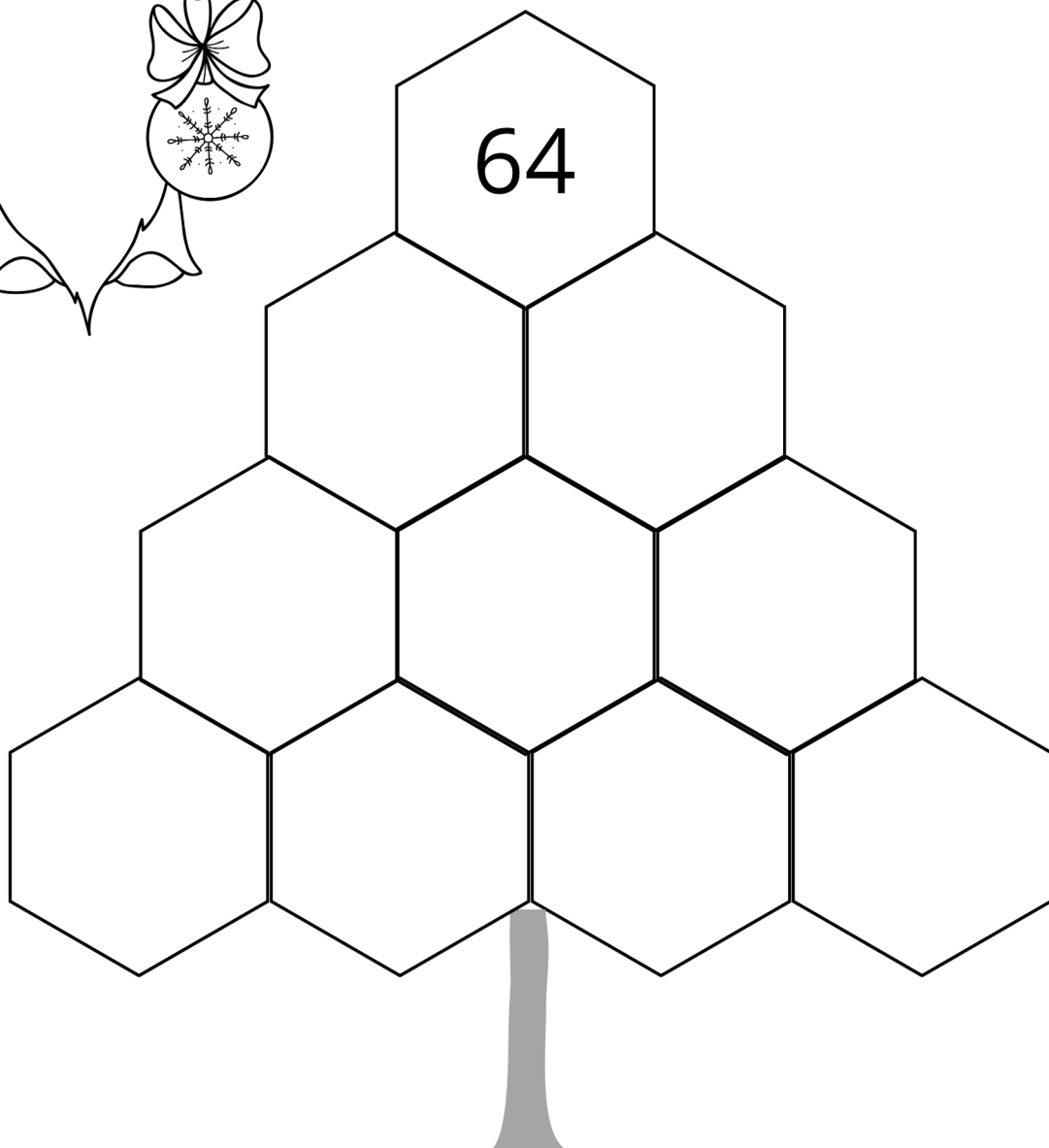
Kannst du die Weihnachtskugeln mit den richtigen Zahlen füllen? Multipliziert wird immer von innen nach außen.



Der Mathe Weihnachtsbaum



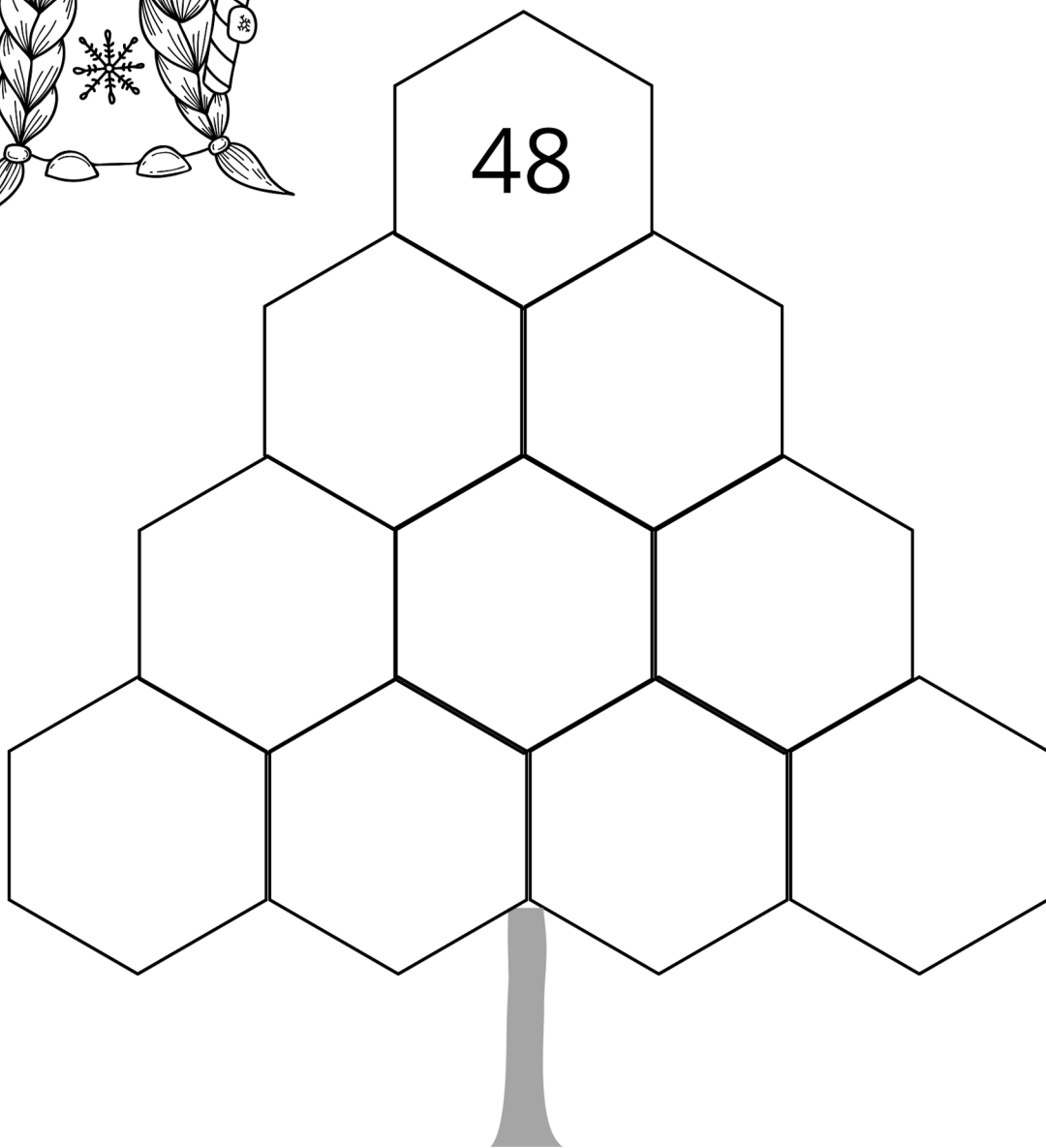
Der Weihnachtsbaum muss noch mit Zahlen dekoriert werden. Starte mit der 64. Welche Zahlen musst du multiplizieren, um auf 64 zu kommen? Trage sie in die beiden Kästchen unter der 64 ein. Fahre so fort, um den Weihnachtsbaum zu füllen.









Der Mathe Weihnachtsbaum



Der Weihnachtsbaum muss noch mit Zahlen dekoriert werden. Starte mit der 64. Welche Zahlen musst du multiplizieren, um auf 64 zu kommen? Trage sie in die beiden Kästchen unter der 64 ein. Fahre so fort, um den Weihnachtsbaum zu füllen.




Zähle und male aus!

	<p>1</p> <p>2</p> <p>3</p>		<p>6</p> <p>7</p> <p>8</p>
	<p>3</p> <p>4</p> <p>5</p>		<p>5</p> <p>6</p> <p>8</p>
	<p>4</p> <p>5</p> <p>6</p>		<p>8</p> <p>9</p> <p>10</p>

SUDOKU

Ein Spiel für schlaue Wichtel

Fülle die Blöcke so aus, dass die Zahlen eins bis neun nur einmal in jeder Zeile, Spalte und im 3x3-Raster erscheinen.



		9	7	3		5	2	6
		5		2		8		
6		8					4	7
					9		6	2
	4		6		3		8	
8	9		5					
2	6					1		8
		7		1		6		
9	5	1		6	4	2		